

Spatial Test Battery—Δείγματα Ερωτήσεων Απομνημόνευση Σχημάτων

Στην ενότητα “Απομνημόνευση Σχημάτων” εξετάζεται η ικανότητά σας να θυμάστε με ακρίβεια τα σχήματα. Στόχος σας είναι να απομνημονεύσετε 20 σχήματα. Κάθε σχήμα έχει ένα μαυρισμένο τμήμα. Αργότερα, στην ενότητα “Ανάκληση Σχημάτων από Μνήμης” σας δίνονται ομάδες σχημάτων που έχουν το ίδιο περίγραμμα, αλλά έχουν μαυρισμένα διαφορετικά τμήματα. Πρέπει να επιλέξετε από κάθε ομάδα το σχήμα που απομνημονεύσατε. Ακολουθούν δείγματα ερωτήσεων από την ενότητα “Απομνημόνευση Σχημάτων”.

Απομνημονεύστε αυτά τα σχήματα μέσα σε 1 λεπτό και έπειτα προχωρήστε στην ενότητα “Μετατροπή Σχημάτων”.

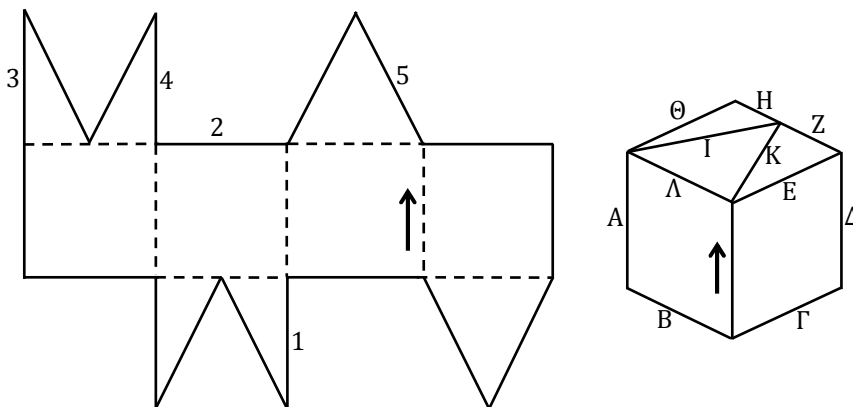


Spatial Test Battery—Δείγματα Ερωτήσεων Μετατροπή Σχημάτων

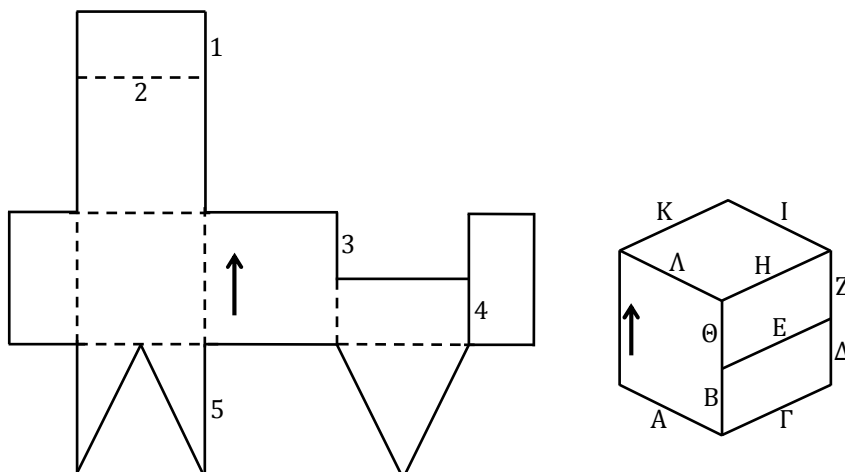
Στην ενότητα “Μετατροπή Σχημάτων” εξετάζεται η ικανότητά σας να διπλώνετε νοερά ένα επίπεδο σχήμα και να το μετατρέπετε σε τρισδιάστατο κουτί. Στα επίπεδα σχήματα το περίγραμμα ορίζεται από τη συνεχόμενη γραμμή. Το σχήμα μπορεί να διπλωθεί στα σημεία που εμφανίζονται οι διακεκομμένες γραμμές. Στόχος σας είναι να συσχετίσετε την κάθε αριθμημένη γραμμή του επίπεδου σχήματος με το γράμμα της αντίστοιχης ακμής του κουτιού. Τα βέλη στο επίπεδο σχήμα και στο κουτί σας βοηθούν, γιατί δείχνουν το ίδιο τμήμα του επίπεδου σχήματος και του κουτιού.

Ακολουθούν δείγματα ερωτήσεων της ενότητας “Μετατροπή Σχημάτων”.

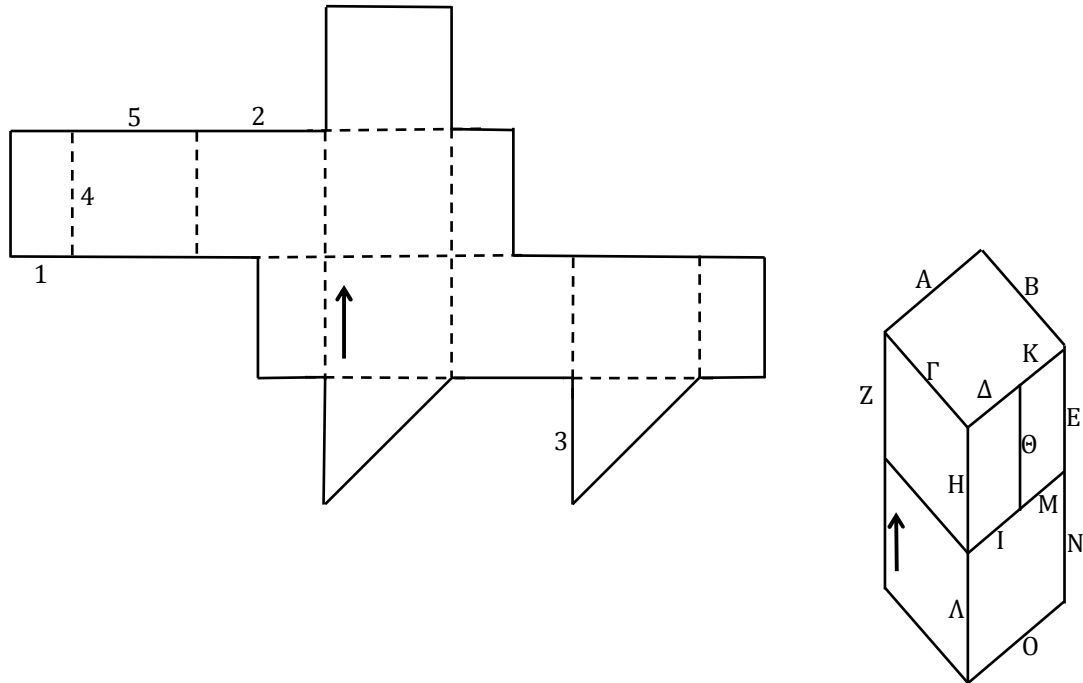
Ερώτηση 1



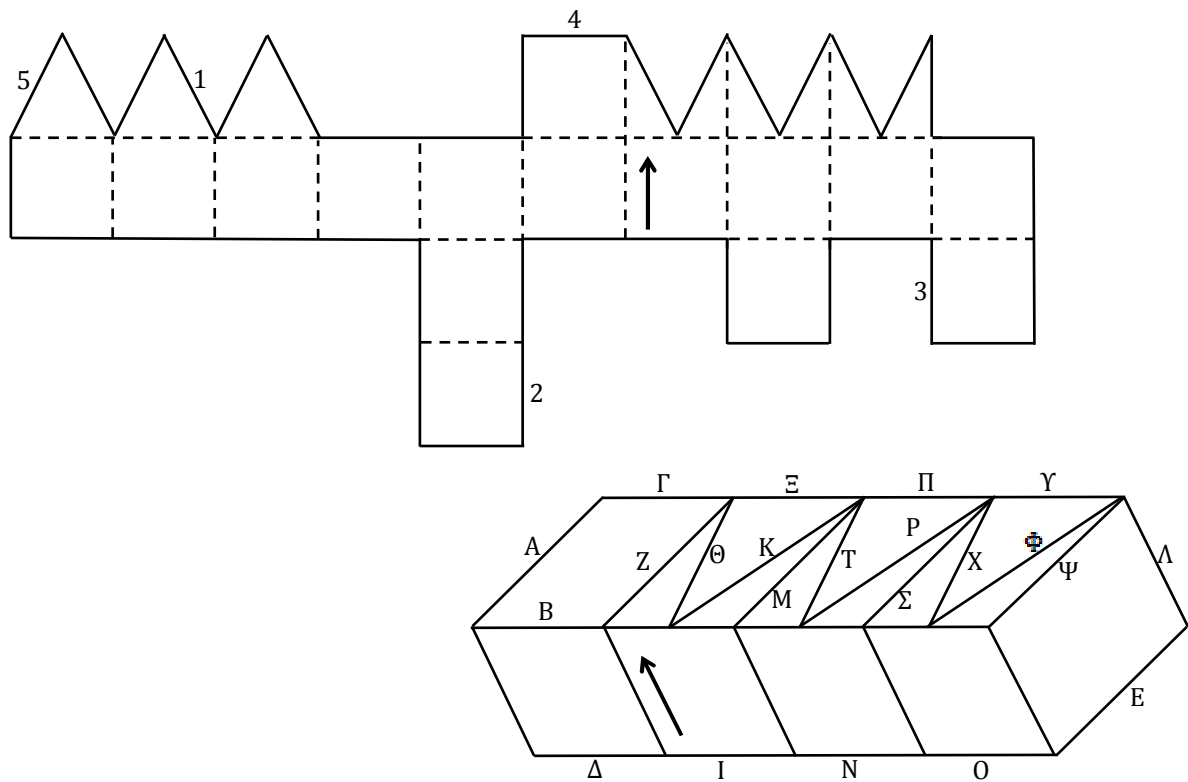
Ερώτηση 2



Ερώτηση 3



Ερώτηση 4





Απαντήσεις στα δείγματα ερωτήσεων από την ενότητα “Μετατροπή Σχημάτων”:

Ερώτηση 1: 1=B 2=Θ 3=E 4=Θ 5=K

Ερώτηση 2: 1=Θ 2=H 3=Θ 4=Δ 5=A

Ερώτηση 3: 1=M 2=A 3=O 4=E 5=B




Ερώτηση 4: 1=T 2=I 3=O 4=Γ 5=Φ

Spatial Test Battery—Δείγματα Ερωτήσεων Περιστροφή Σχημάτων


Στην ενότητα “Περίστροφη Σχημάτων” εξετάζεται η ικανότητά σας να περιστρέψετε νοερά ένα σχήμα στον χώρο. Σε κάθε ερώτηση βλέπετε έξι εικόνες. Στην εικόνα επάνω αριστερά φαίνεται το αρχικό σχήμα. Σε μία από τις άλλες πέντε εικόνες, που φέρουν την ένδειξη Α, Β, Γ, Δ και Ε, φαίνεται και πάλι το αρχικό σχήμα, αλλά αφού έχει περιστραφεί στον χώρο. Οι άλλες τέσσερις εικόνες απεικονίζουν ένα διαφορετικό σχήμα από το αρχικό. Από τις εικόνες με την ένδειξη Α, Β, Γ, Δ και Ε πρέπει να επιλέξετε εκείνη που απεικονίζει το αρχικό σχήμα περιστραμμένο στον χώρο.

Ακολουθούν δείγματα ερωτήσεων από την Ενότητα “Περιστροφή Σχημάτων”.

Ερώτηση 1



Ερώτηση 2



A



B



Γ



Δ



Ε

Ερώτηση 3



A



B



Γ






Δ



Ε

Ερώτηση 4




Γ

Δ

E

Ερώτηση 5



Γ

Δ

E

Ερώτηση 6



A



B



Γ



Δ



E

Ερώτηση 7



A



B



Γ



Δ



E

Ερώτηση 8



Απαντήσεις στα δείγματα ερωτήσεων από την ενότητα “Περιστροφή Σχημάτων”:

- Ερώτηση 1 = Α
- Ερώτηση 2 = Β
- Ερώτηση 3 = Α
- Ερώτηση 4 = Γ
- Ερώτηση 5 = Ε
- Ερώτηση 6 = Γ
- Ερώτηση 7 = Γ
- Ερώτηση 8 = Δ


Spatial Test Battery—Δείγματα Ερωτήσεων Ανάκληση Σχημάτων από Μνήμης

Προηγουμένως απομνημονεύσατε 6 σχήματα με μαυρισμένα τμήματα. Σε αυτή την ενότητα “Ανάκληση Σχημάτων από Μνήμης” εξετάζεται η ικανότητά σας να θυμάστε με ακρίβεια τα σχήματα αυτά. Σε κάθε ερώτηση, το σχήμα που απομνημονεύσατε εμφανίζεται μαζί με άλλα τέσσερα σχήματα, τα οποία έχουν το ίδιο περίγραμμα, αλλά έχουν μαυρισμένα διαφορετικά τμήματα.


ΜΗΝ ξαναδείτε τα αρχικά σχήματα!

Στα δείγματα ερωτήσεων παρακάτω, προσδιορίστε ποιο από τα σχήματα, που φέρουν την ένδειξη Α, Β, Γ, Δ και Ε, είναι αυτό που απομνημονεύσατε.

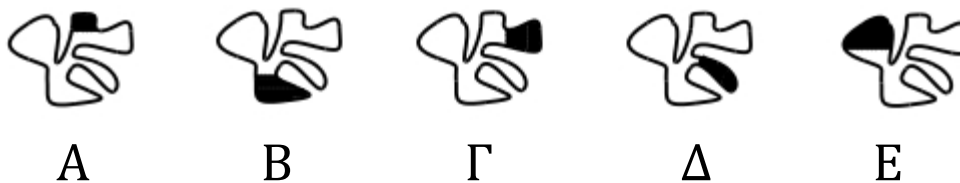
Ερώτηση 1



Ερώτηση 2



Ερώτηση 3



Ερώτηση 4



Ερώτηση 5



A



B



Γ



Δ



E

Ερώτηση 6



A



B



Γ



Δ



E

Προσοχή: κατά τη διάρκεια του πραγματικού τεστ, η ενότητα “Ανάκληση Σχημάτων από Μνήμης” εμφανίζεται, αφού ολοκληρώσετε τις ενότητες “Μετατροπή Σχημάτων” και “Περιστροφή Σχημάτων”, δηλαδή περίπου 30 λεπτά μετά την ενότητα “Απομνημόνευση Σχημάτων”.

Όταν προσπαθείτε να απομνημονεύσετε τα σχήματα, μη δίνετε σημασία στη σειρά των σχημάτων ή στη θέση όπου εμφανίζονται στη σελίδα. Επικεντρώστε την προσοχή σας στα σχήματα και στα μαυρισμένα τμήματά τους.

Απαντήσεις στα δείγματα ερωτήσεων της ενότητας “Ανάκληση Σχημάτων από Μνήμης”:

Ερώτηση 1 = E

Ερώτηση 2 = A

Ερώτηση 3 = Γ

Ερώτηση 4 = B

Ερώτηση 5 = Δ

Ερώτηση 6 = B